

小2・算数

平均点68.4点

4 文しょうだい
正答率50.7%

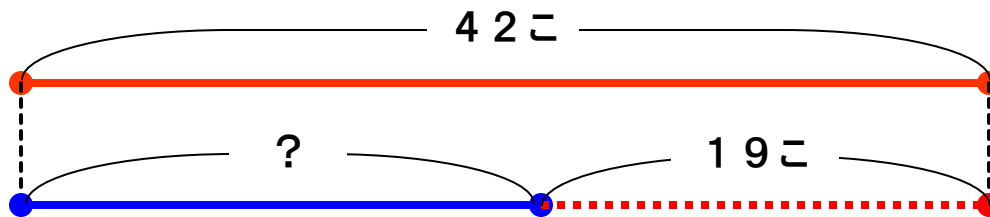
Point

分けて図をかこう

4 つぎの もんだいに 答えなさい。

- (4) よしのさんは おはじきと ビー玉を もって いて、 おはじきの 数は 42こ、 ビー玉の数は おはじきの 数より19こ 少ないです。

よしのさんは 弟に おはじきと ビー玉を あわせて 24こ あげたので、 よしのさんが もって いる おはじきは 27こに なりました。 よしのさんが いま もって いる ビー玉は 何こですか。



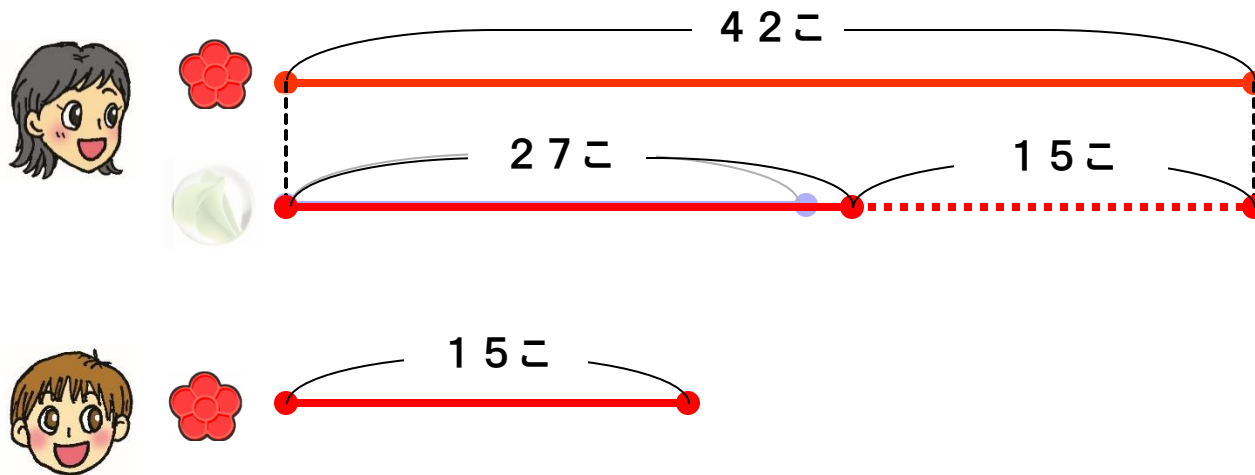
$42 - 19 = 23$
よしのさんの
ビー玉の数

4 つぎの もんだいに 答えなさい。

(4) よしのさんは おはじきと ビー玉を もって いて、 おはじきの 数は 42こ、 ビー玉の数は おはじきの 数より19こ 少ないです。

よしのさんは 弟に おはじきと ビー玉を あわせて 24こ あげたの
で、 よしのさんが もって いる おはじきは 27こに なりました。

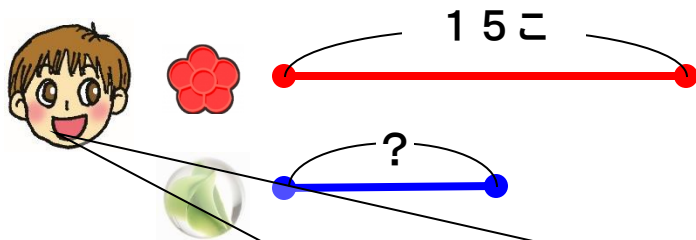
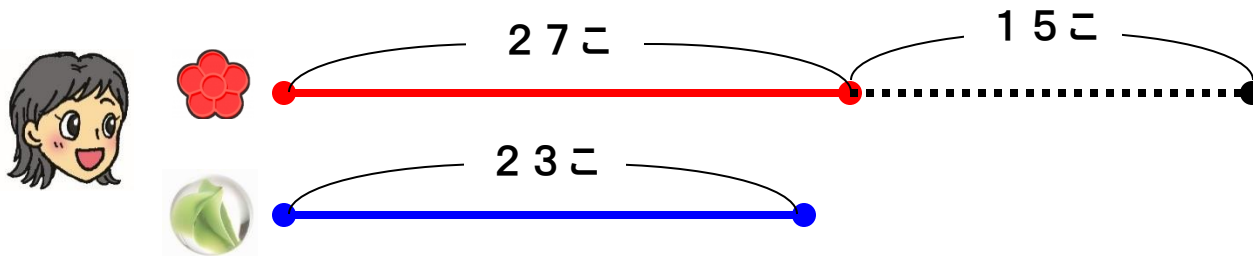
よしのさんが いま もって いる ビー玉は 何こですか。



$42 - 27 = 15$
よしのさんが弟に
あげた
おはじきの数

4 つぎの もんだいに 答えなさい。

(4) よしのさんは おはじきと ビー玉を もって いて、 おはじきの 数は 42こ、 ビー玉の数は おはじきの 数より19こ 少ないです。 よしのさんは 弟に おはじきと ビー玉を あわせて 24こ あげたの で、 よしのさんが もって いる おはじきは 27こに なりました。 よしのさんが いま もって いる ビー玉は 何こですか。



$$24 - 15 = 9$$

弟のビー玉の数

ぼくがもらった おはじきとビー玉はあわせて24こだから…

4 つぎの もんだいに 答えなさい。

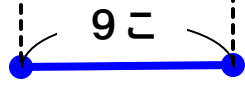
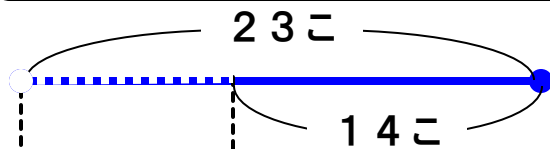
問題文を読みとった内容順に、式や図で表していくことが大切です。

で、よしのさんがもっているおはじきは27こになりました。

よしのさんがいまもっているビー玉は何こですか。



わたしがもっていたビー玉23こから 弟に9こあげたので…



$$23 - 9 = 14$$

答え 14こ