

小1・算数

平均点57.5点

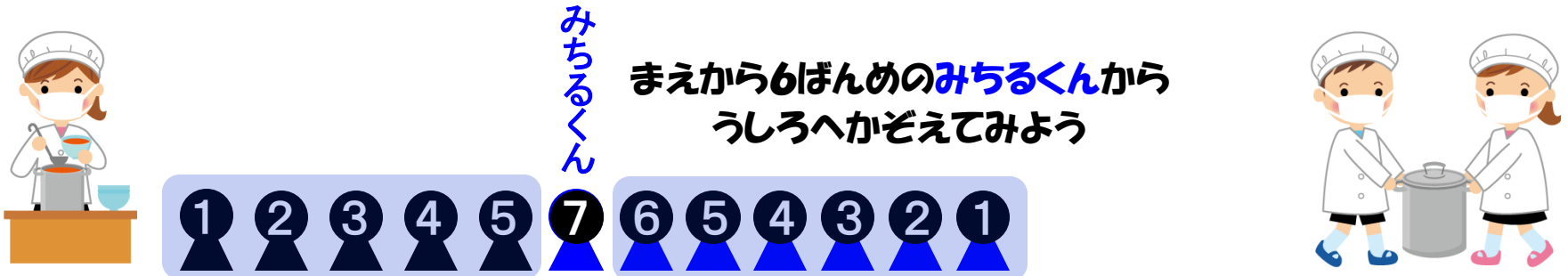
3 なんばんめ
正答率34.2%

Point

図をかいてかんがえよう

3 つぎの もんだいに こたえなさい。

(2) きゅうしょくの じかんに、 おかわりを するために、 なんにんかの
ひとが 1れつに ならんでいます。 みちるくんは まえから 6ばんめ、
うしろから 7ばんめに ならんでいます。



まえ
みちるくんのまえには、5 にん みちるくんのうしろには、6 にん
みちるくんも 入れて、ぜんぶたすと・・・

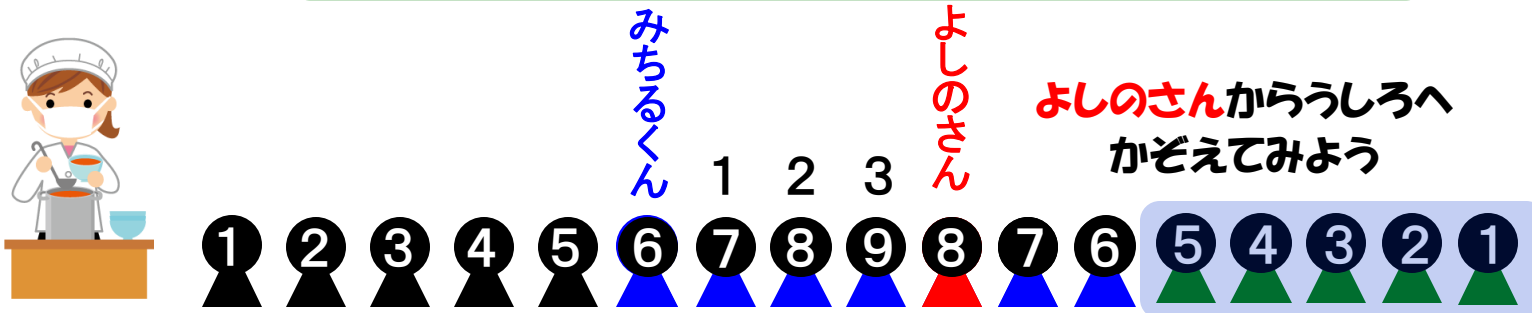
① なんにんの ひとが ならんでいますか。

$$5 + 1 + 6$$

答え 12 にん

3 つぎの もんだいに こたえなさい。

② よしのさんは みちるくんより うしろに いて、 みちるくんと よしのさん
の あいだには 3にん ならんでいます。 このあと、 なんにんか やって
きて うしろに ならんだので、 よしのさんは うしろから 8ばんめにな
りました。 あとから やって きた こどもは なんにんですか。



まえ

答え 5にん



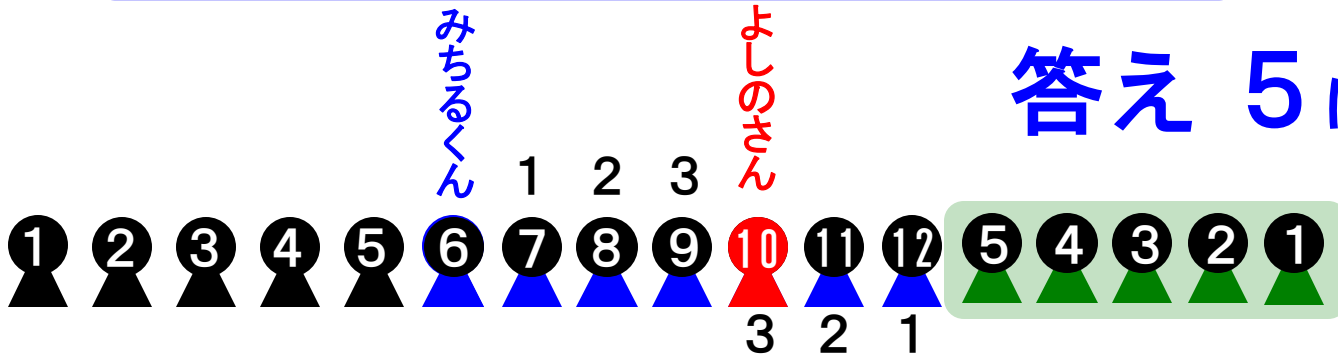
よしのさんがうしろから
なんばんめか にちゅうもく
しても答えられるね！

3 つぎの もんだいに こたえなさい。

② よしのさんは みちるくんより うしろに いて、 みちるくんと よしのさん
の あいだには 3にん ならんでいます。このあと、なんにんか やって
きて うしろに ならんだので、よしのさんは うしろから 8ばんめになり
ました。あとから やって きた こどもは なんにんですか。



まえ



答え 5 にん

よしのさんは
うしろから 3ばんめ $8 - 3 = 5$



なんにんきたら うしろから
8ばんめになるかな？